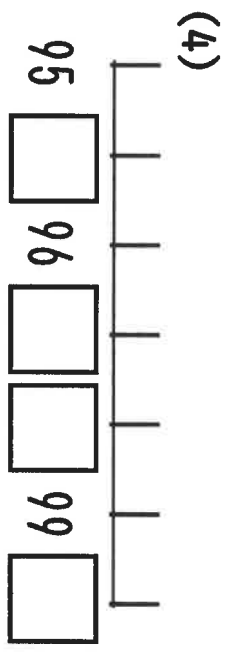
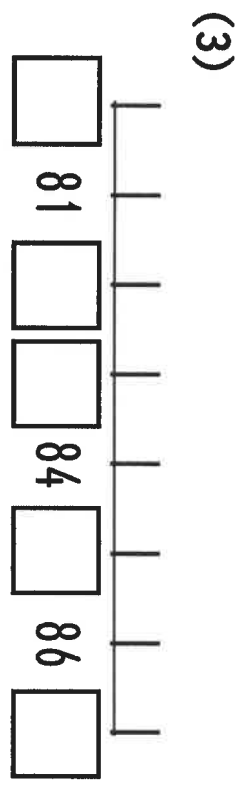
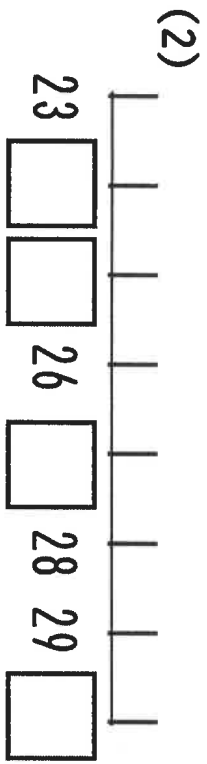
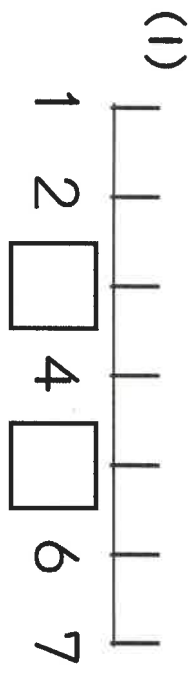





① □にあてはまるすうじをかいてみよう！



トリハークン



② □にあてはまるすうじをかいてみよう！

- 4のつぎは？ → □
- 10のつぎは？ → □
- 15のつぎは？ → □
- 21のつぎは？ → □
- 35のつぎは？ → □
- 67のつぎは？ → □
- 79のつぎは？ → □
- 87のつぎは？ → □
- 99のつぎは？ → □

